

SOLFANOTASIE - GRAAD 2

(Unisa leerders alleen.)

In graad 2 gaan jy die volgende byleer by die solfanotasie wat jy reeds ken:

- Die **omvang** is nou een oktaaf en nie net die eerste 5 trappe nie.
- 'n Noot een **oktaaf hoër** in solfanotasie.
- Die **gepunteerde halfnoot** ($\overset{\text{p}}{\cdot}$).
- Die **kwartrus** en **halfrus**.
- Die **toonsoorte** van D en B-mol word bygelas.

1. 'N NOOT EEN OKTAAF HOËR IN SOLFANOTASIE:

Om te onderskei tussen verskillende registerplasings van 'n spesifieke solfa sillabe, word 'n *nommer* of 'n *komma* gebruik as:

- Boskrif: d^1 of d' om 'n oktaaf **hoër** aan te dui
- Onderskrif: d_1 of d , om 'n oktaaf **laer** aan te dui

VOORBEELD: Do is C

$\frac{2}{4} \mid d : d^1 \mid d^1 : - \mid$



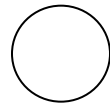
Oef. 1/1

TRANSKIBEER DIE VOLGENDE FRASES, WAT IN SOLFANOTASIE IS, OOR NA BALKNOTASIE:

Onthou: Skryf eers die tydmaatteken (en maatlyne indien nodig.)

Do is C

C-majeur



1
 $\frac{3}{4} \mid d : m : s \mid - : d^1 : - \mid$



2

$\frac{2}{4}$ | d¹ : — | d¹ : d |



3

$\frac{3}{4}$ | d¹ : — : d¹ | d¹ : s : d |



2. GEPUNTEERDE HALFNOOT:

- Jy weet reeds dat 'n **halfnoot twee maatslae** (twee tellings) kry. Dit word met 'n **aandagstreep (-)** aangedui:

Do is C

$\frac{2}{4}$ | d : — |



- 'n **Gepunteerde halfnoot** kry **drie maatslae** (drie tellings) omdat dit gelyk is aan drie kwartnote. Dit word geskryf met twee aandagstrepe:

Do is C

$\frac{3}{4}$ | d : — : — |

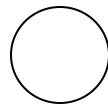


Oef. 2/1

SKRYF DIE VOLGENDE FRASES VAN SOLFANOTASIE NA BALKNOTASIE:

Do is C

C-majeur



1

$\frac{3}{4}$ | d : d : d | d : — : — |



2

$\frac{3}{4}$ | d¹ : — : — | d¹ : — : — |



3
 $\frac{3}{4}$ | d¹ : — : d¹ | d¹ : — : — |



4
 $\frac{3}{4}$ | d : — : — | d : r : m |




3. OMVANG:

Die omvang van **een oktaaf** word vir hierdie eksamen vereis.

VOORBEELD:

Do is C

Balknotasie: 

Solfanotasie: d r m f s l t d¹

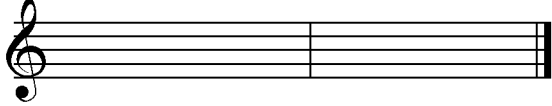
Oef. 3/1

NOTEER DIE VOLGENDE TWEEMAAT-FRASES VAN SOLFANOTASIE NA BALKNOTASIE:


Do is G

G-majeur


1
 $\frac{2}{4}$ | d¹ : t | l : s |



2
 $\frac{3}{4}$ | s : — : l | — : t : d¹ |



3
 $\frac{3}{4}$ | s : — : — | l : t : d¹ |



4
 $\frac{3}{4}$ | m : f : s | l : t : d¹ | 

5
 $\frac{3}{4}$ | d¹ : t : d¹ | — : s : d¹ | 

6
 $\frac{3}{4}$ | d¹ : s : m | d : — : — | 


4. RUSTEKENS:

Rustekens word deur **leë spasies** aangedui:

- Kwartrus – een leë spatie

VOORBEELDE:

Do is C

$\frac{2}{4}$ | s : | d¹ : | 

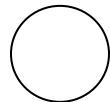
$\frac{3}{4}$ | d¹ : s : | m : d : | 

Oef. 4/1

SKRYF DIE VOLGENDE FRASES, WAT IN SOLFANOTASIE IS, OOR NA BALKNOTASIE:

Do is F

F-majeur



1
 $\frac{3}{4}$ | d : s : | d¹ : — : — | 

2

$\frac{2}{4}$ | d¹ : | m : — |



3

$\frac{3}{4}$ | s : : d¹ | — : t : l |



4

$\frac{3}{4}$ | s : l : t | d¹ : — : — |



5

$\frac{3}{4}$ | s : l : t | — : d¹ : |



6

$\frac{3}{4}$ | d¹ : — : t | l : s : — |



• **Halfrus – twee leë spasies.**

Onthou, die regte groepering is dat elke maatslag sy *eie rusteken* kry.

VOORBEELD:

Do is C

$\frac{3}{4}$ | d¹ : l : t | d¹ : : |

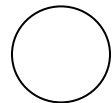


Oef. 5/1

NOTEER DIE VOLGENDE TWEEMAAT-FRASE VAN SOLFANOTASIE NA BALKNOTASIE:

Do is C

C-majeur



1

$\frac{3}{4}$ | s : — : t | d¹ : : |



2
 $\frac{3}{4}$ | s : : | d¹ : — : — | 

3
 $\frac{3}{4}$ | t : : | d¹ : d : | 

4
 $\frac{3}{4}$ | t : — : s | — : d¹ : | 

5
 $\frac{3}{4}$ | r : — : — | d : : | 


6
 $\frac{3}{4}$ | s : l : t | d¹ : — : | 

5. ANDER TOONSOORTE:

Die volgende toonsoorte is vir hierdie eksamen voorgeskryf:

C, G, D, F, B-mol majeurs.

VOORBEELD: Do is B mol



d r m f s l t d'

Doen Oef. 5/1 weer, met

Do is G

Do is D

Do is F

Do is B^b

Werk op jou eie musiekpapier.

*

*

*